

DIPLOME NATIONAL DU BREVET -

EPREUVE D'HISTOIRE - GEOGRAPHIE - EDUCATION CIVIQUE

L'épreuve se compose de **trois parties** qui doivent **obligatoirement** être traitées par le candidat :

- **1^{ère} partie** : traitez **au choix** un des deux sujets (**histoire ou géographie**) 18 points
- **2^{ème} partie** : éducation civique 12 points
- **3^{ème} partie** : repérage dans l'espace 6 points

La maîtrise de la langue (orthographe et expression écrite) sera notée sur 4 points.

 GROUPEMENT INTERACADEMIQUE II 	 SESSION 2001 	 1/8
 <u>Examen et spécialité :</u>		
 DIPLOME NATIONAL DU BREVET : SERIE TECHNOLOGIQUE 		
 <u>Intitulé de l'épreuve :</u>		
 HISTOIRE - GEOGRAPHIE - 		
 Coef. : 2 	 Durée : 2 heures 	 N/J

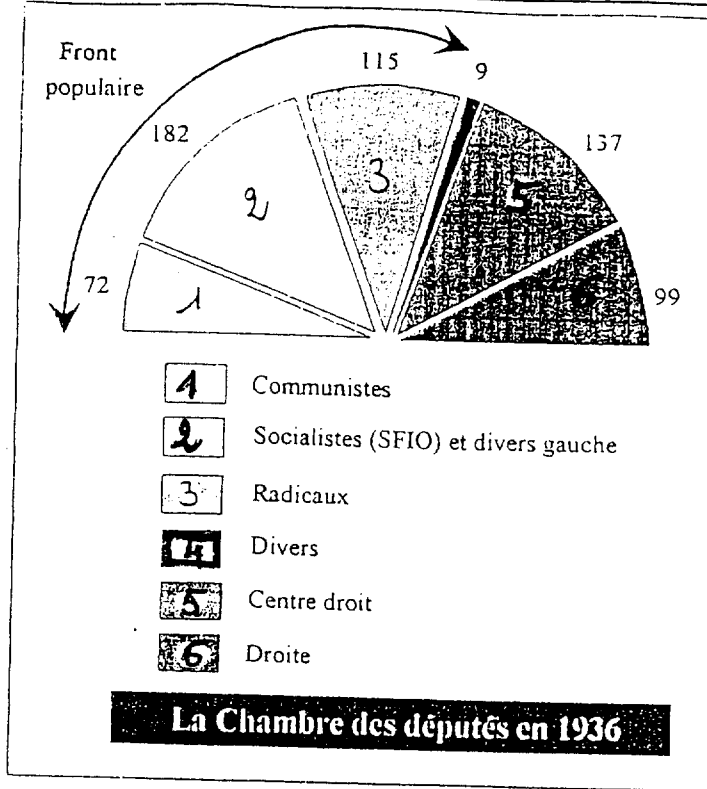
PREMIERE PARTIE (18 points) : HISTOIRE ET GEOGRAPHIE

LE CANDIDAT TRAITERA AU CHOIX UN DES DEUX SUJETS

SUJET N° 1 : HISTOIRE

LE FRONT POPULAIRE EN FRANCE

Document 1 : La composition de l'Assemblée nationale après les élections de mai 1936.



Document 2 :

L'Ouest-Eclair

JOURNAL REPUBLICAIN DU MATIN

La première journée du cabinet de front populaire

M. BLUM, DANS UN DISCOURS RADIODIFFUSÉ

ANNONCE LE DÉPÔT DE TROIS PROJETS :

- SEMAINE DE 40 HEURES
- CONTRATS COLLECTIFS ET CONGÉS PAYÉS

La grève, qui s'est étendue aux grands magasins, se poursuit sans grand changement et le ravitaillement de la capitale, malgré une grève à La Villette, a pu être assuré.

LES MINISTRES ONT TENU IER LEUR PREMIER CONSEIL DE CABINET

... de 1930

Cette déclaration a été faite en 1942, six ans après les événements, par Léon Blum, alors accusé devant la cour de justice de Riom d'être responsable de la guerre.

« [...] Je ne suis pas sorti souvent de mon cabinet ministériel pendant la durée de mon ministère ; mais chaque fois que j'en suis sorti, que j'ai traversé la grande banlieue parisienne et que j'ai vu les routes couvertes de théories de « tacots », de motos, de tandems avec des couples d'ouvriers vêtus de pull-overs assortis et qui montraient que l'idée de loisir réveillait chez eux une espèce de coquetterie naturelle et simple, j'avais le sentiment d'avoir malgré tout apporté une embellie, une éclaircie dans des vies difficiles, obscures. [...] On ne leur avait pas seulement donné plus de facilité pour la vie de famille ; mais on leur avait ouvert une perspective d'avenir, on avait créé chez eux un espoir.

Cité dans G. Lefranc, *Juin 1936*, collection « Archives », Gallimard, 1974.

QUESTIONS

ANALYSE DE DOCUMENTS (8 points)

Document 1 :

- 1°) Quels partis composent le Front populaire ? 1 point
- 2°) Quel parti est majoritaire ? Combien le Front populaire obtient-il de sièges ? De quel type de majorité dispose-t-il à l'Assemblée nationale ? Justifiez votre réponse. 2 points

Document 2 :

- 3°) Quelles sont les trois mesures que Léon Blum annonce aux Français ? 3 points
- 4°) A quel mouvement social ces mesures font-elles suite ? 1 point

Document 3 :

- 5°) « L'idée de loisir réveillait chez eux une espèce de coquetterie naturelle et simple. » 1 point
- Quelles sont les différentes mesures du Front populaire qui ont permis aux ouvriers d'avoir cette « idée de loisir » ?

PARAGRAPHE ARGUMENTE (10 points)

- 6°) Rédigez un texte d'une vingtaine de lignes dans lequel vous montrerez comment et pourquoi le Front populaire est arrivé au pouvoir en France. Puis vous exposerez les mesures prises par son gouvernement en évoquant les changements intervenus dans la vie des Français.

GROUPEMENT INTERACADEMIQUE II		SESSION 2001	3/8
Examen et spécialité :			
DIPLOME NATIONAL DU BREVET : SERIE TECHNOLOGIQUE			
Intitulé de l'épreuve :			
HISTOIRE – GEOGRAPHIE -			
Coef. : 2	Durée : 2 heures	N/J	

LE VIEILLISSEMENT DE LA POPULATION FRANCAISE

Document 1 :

La France franchit le cap des 60 millions

Après une décennie de croissance démographique modérée, la France a légèrement dépassé le seuil des 60 millions d'habitants à la veille de l'an 2000, en gagnant deux millions d'habitants depuis 1990, selon les tout premiers résultats du recensement de 1999, publiés mardi par l'INSEE.

Le pays compte désormais 60 082 000 habitants. Entre 1990 et 1999, sa population s'est accrue de 0,38 % par an, une progression « légèrement ralentie » par rapport à la période intercensitaire précédente (+ 0,55 % par an entre 1982 et 1990).

La métropole abrite 58 416 500 personnes (au lieu de 56 615 200 habitants en 1990, soit une croissance de 0,35 % par an (au lieu de + 0,51 % par an auparavant).

Les DOM dopent la croissance

Les départements d'outre-mer (DOM) comptent 1 665 500 personnes, contre 1 459 100 en 1990. D'un dynamisme démographique traditionnellement supérieur à la métropole, les DOM ont connu durant la période de référence une croissance de 1,48 % par an, contre + 1,99 % entre 1992 et 1990.

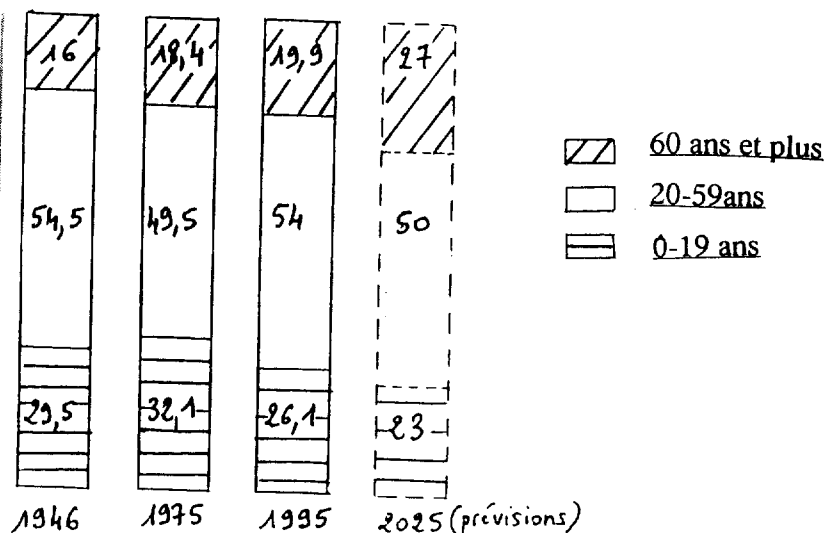
Au total, la croissance démographique de la France repose sur un excédent naturel (différence entre le nombre des naissances et celui des décès) de + 1 872 000 personnes sur la période 1990-1999 et sur un solde migratoire⁽¹⁾ estimé par l'INSEE, à + 530 000 personnes

Le Télégramme - 7 juillet 1999

⁽¹⁾solde migratoire : différence entre le nombre des immigrants et celui des émigrants.

Document 2 :

Evolution des différentes tranches d'âge, de la population française, en pourcentage de 1946 à 2025.



GROUPEMENT INTERACADEMIQUE II		SESSION 2001	4/8
Examen et spécialité :			
DIPLOME NATIONAL DU BREVET : SERIE TECHNOLOGIQUE			
Intitulé de l'épreuve :			
HISTOIRE - GEOGRAPHIE -			
Coef. : 2	Durée : 2 heures	N/J	

Le « papy boom »

« La France de 2020 n'aura pas seulement la tête au sud, elle aura aussi les cheveux blancs ! On savait déjà que les pays industrialisés vieillissaient à vitesse accélérée, mais l'étude de la démographe Béatrice de La Chapelle chiffre le phénomène.

Dans vingt ans, pour la première fois de son histoire, la France comptera plus de personnes âgées de plus de 60 ans que de moins de vingt ans. En clair, un Français sur 4 aura atteint l'âge de la retraite : il s'agit bien évidemment de la génération baby boom, qui deviendra celle du papy boom ! Les plus de 95 ans seront cinq fois plus nombreux qu'aujourd'hui (de 40 000 à 200 000).

L'invasion des « mamies » et des « papys » est d'ailleurs l'une des explications de la croissance démographique du Sud : attirés par le soleil et la mer, ils habiteront en priorité les régions méditerranéennes. Leur poids aura une autre conséquence, plus grave cette fois : comment financera-t-on la retraite de 17 millions de personnes (contre 10 millions aujourd'hui) ? »

D'après Le Parisien, 11 août 1997, Magnard 4°, 1998

QUESTIONS

ANALYSE DE DOCUMENTS (8 points)

Document 1 :

1°) Quelles sont les deux causes de la croissance démographique de la France ? **3 points**

Document 2 :

2°) Comment chaque tranche d'âge de la population française a-t-elle évolué entre 1946 et 1995 ? **3 points**

3°) Quelle information commune les documents 2 et 3 apportent-ils sur la tranche d'âge des 60 ans et plus ? **2 points**

PARAGRAPHE ARGUMENTE (10 points)

4°) En une vingtaine de lignes présentez le vieillissement de la population française à l'aide des documents. Expliquez-en les raisons et montrez les conséquences que cela entraîne.

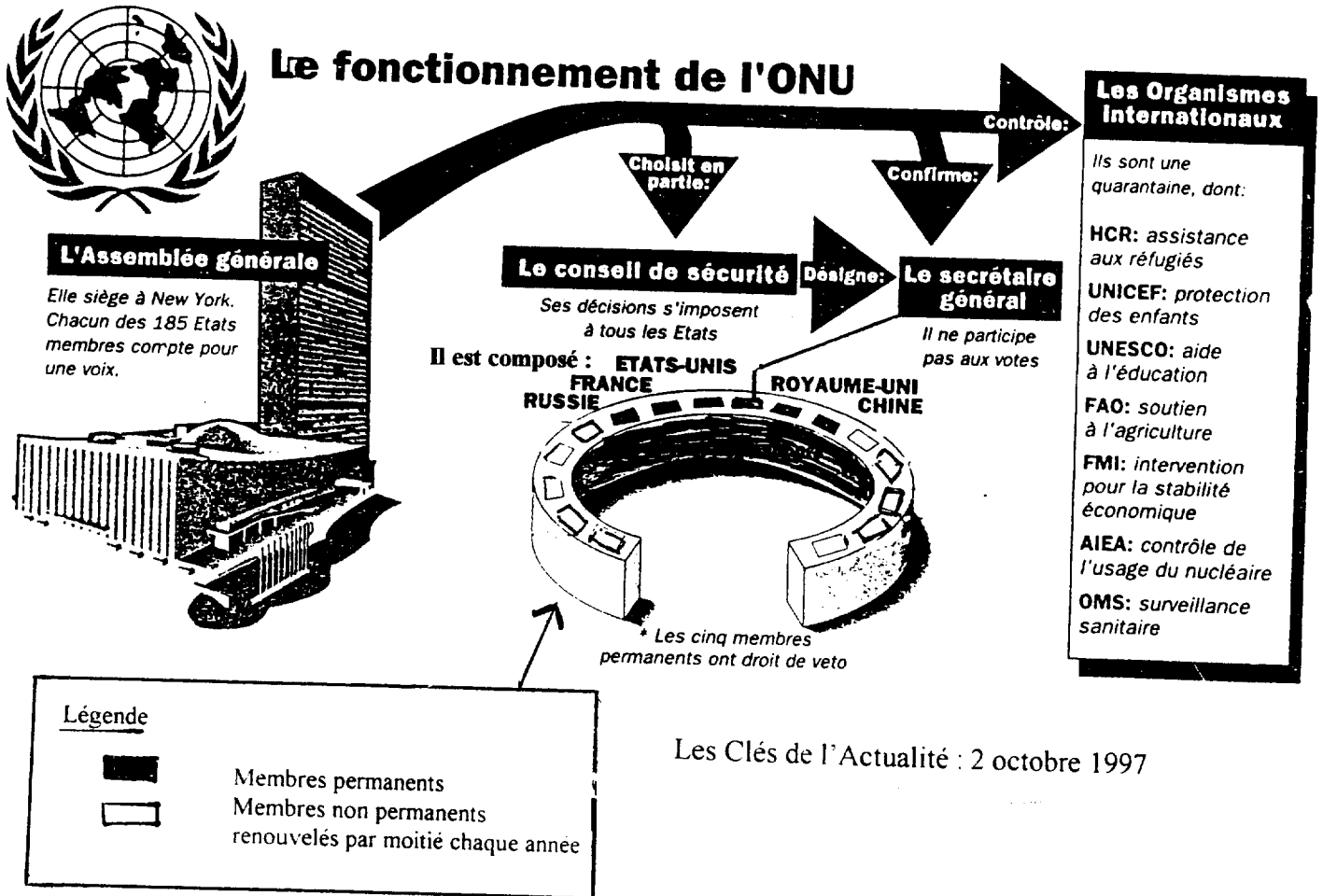
GROUPEMENT INTERACADEMIQUE II	SESSION 2001	5/8
<u>Examen et spécialité :</u>		
DIPLOME NATIONAL DU BREVET : SERIE TECHNOLOGIQUE		
<u>Intitulé de l'épreuve :</u>		
HISTOIRE – GEOGRAPHIE -		
Coef. : 2	Durée : 2 heures	N/J

DEUXIEME PARTIE : EDUCATION CIVIQUE (12 points)

LE CANDIDAT DEVRA OBLIGATOIREMENT TRAITER CETTE DEUXIEME PARTIE

SUJET : L'ONU, PROMOTEUR DE LA PAIX DANS LE MONDE.

Document n° 1 : Le fonctionnement de l'ONU



 GROUPEMENT INTERACADEMIQUE II 		 SESSION 2001 	 6/8
 Examen et spécialité : 			
 DIPLOME NATIONAL DU BREVET : SERIE TECHNOLOGIQUE 			
 Intitulé de l'épreuve : 			
 HISTOIRE - GEOGRAPHIE - 			
 Coef. : 2 	 Durée : 2 heures 	 N/J 	

TIMOR-ORIENTAL

Djakarta plie devant l'ONU

Cédant aux pressions, le président indonésien accepte l'envoi d'une force internationale qui sera conduite par l'Australie. Une inconnue : l'attitude des milices anti-indépendantistes auteurs des massacres.

Le président indonésien Jusuf Habibie, cédant aux pressions internationales, a annoncé hier, dans une déclaration télévisée, que son pays acceptait l'envoi d'une force internationale afin "de restaurer la paix et la sécurité" au Timor-Oriental.

Cette décision a été immédiatement saluée par plusieurs pays, dont les Etats-Unis, l'Australie qui sera en première ligne parmi les fournisseurs en troupes de cette force, la Grande-Bretagne, le Portugal et la France, ainsi que par les deux principaux dirigeants indépendantistes est-timorais.

Après presque une semaine de refus obstiné, l'Indonésie a cédé aux pressions redoublées assorties de sanctions financières de la communauté internationale, horrifiée par les récits et les images des atrocités commises dans l'ancienne

colonie portugaise par les milices anti-indépendantistes appuyées par l'armée indonésienne.

M. Habibie a spécifié qu'il avait appelé au téléphone le secrétaire général des Nations unies Kofi Annan pour l'informer que Djakarta était "prêt à accepter des forces internationales de paix venant de nations amies". (...) Il a souligné qu'il était "impératif" de mettre aussi tôt que possible un terme au chaos qui règne au Timor-Oriental.

Ali Alatas, le ministre indonésien des affaires étrangères, va se rendre "immédiatement" à New York pour expliquer la position de l'Indonésie au Conseil de sécurité de l'ONU.

Sud-Ouest - 13 septembre 1999

QUESTIONS

ANALYSE DE DOCUMENTS (8 points)

Document 1 :

- 1°) Quel est le nombre d'Etats membres de l'ONU qui composent :
- l'assemblée générale
 - le conseil de sécurité ?
- 1 point**

Document 2 :

- 2°) Dans quel pays intervient l'ONU et quels sont les objectifs ?
- 2 points**

Documents 1 et 2 :

- 3°) Quel est l'actuel secrétaire général de l'ONU ? Par qui est-il désigné ?
- 1 point**

PARAGRAPHE ARGUMENTE (8 points)

- 4°) A partir des documents fournis et de vos connaissances, rédigez un paragraphe argumenté de 15 lignes environ où vous rappellerez :

- la définition du sigle de l'ONU, l'origine de cet organisme, son principal but, son organisation et les différents aspects de son action dans le monde.

TROISIEME PARTIE (6 points) :
REPERES CHRONOLOGIQUES ET SPATIAUX

**LE CANDIDAT DOIT TRAITER LES DEUX QUESTIONS :
CELLE D'HISTOIRE ET CELLE DE GEOGRAPHIE**

HISTOIRE (3 points)

Attribuez à chaque événement les dates qui le concernent :

- Guerre d'Algérie
- IVème République
- De Gaulle président de la République

- 1946 – 1958
- 1958 – 1969
- 1954 - 1962

GEOGRAPHIE (3 points)

Indiquez, sur la carte de l'Europe, six pays membres de l'Union Européenne, en écrivant lisiblement leur nom à l'intérieur de l'espace indiqué par un point.



FEUILLE A REMETTRE AVEC LA COPIE

CORRIGE

PREMIERE PARTIE : SUJET N° 1 : Le Front populaire en France.

1) Parti communiste+ SFIO+ Parti radical (1 point)

2) La SFIO est majoritaire

Le Front populaire obtient 369 sièges. Il dispose de la majorité absolue car il possède plus de 54 % des sièges. (369 sur 614). (2 points).

3) La semaine de 40 heures, les contrats collectifs, les congés payés. (3 points).

4) La grève (1 point).

5) Les congés payés de 15 jours et la semaine de 40 heures (1 point).

6) – le Front populaire a gagné les élections en mai 1936

- il se compose des 3 grands partis (PC+ SFIO+ Radicaux).
- Blum est élu chef du gouvernement
- Des mouvements de grèves éclatent dans les usines
- Signature des Accords de Matignon entre patronats et syndicats
- Les grandes lois du Front populaire (congés payés, 40 heures, contrats collectifs, augmentation des salaires, nationalisations des industries d'armement, SNCF créée).

SUJET N°2 : Le vieillissement de la population française.

1) excédent naturel (1,5 points)

solde migratoire (1,5 points).

2) Le nombre de jeunes, après avoir légèrement augmenté de 1946 à 1975, a nettement diminué après cette date.(1 point)

Les 20-59 ans restent au niveau de 1946.(1 point)

L'augmentation du nombre des 60 ans et plus de 60 ans est régulière depuis 1946 (1 point)

3) Le document 2 affiche 27% de Français de 60 ans et plus en 2025. Le document 3 parle d'un Français sur quatre (donc 25%) ayant atteint l'âge de la retraite en 2018. (2 points).

4) Raisons du vieillissement de la population française

- baisse de la natalité
- augmentation de l'espérance de vie.

Conséquences :

- baisse du dynamisme de la population
- déplacement de la population vers le sud
- infrastructures à construire (maisons de retraite)
- personnel médical adapté
- déficit de la sécurité sociale, financement des retraites. (10 points).

DEUXIEME PARTIE : L'ONU, promoteur de la paix dans le monde.

1) – 185 (0,5 point)

- 5 (0,5 point)

2) – L'ONU intervient en Indonésie (accepter Timor-Oriental) (1 point).

- Objectifs : restaurer la paix et la sécurité (1 point) ;

3) – Kofi Annan (0,5 point)

- par le Conseil de sécurité (0,5 point)

4) L'ONU, Organisation des Nations Unies, a été créée au lendemain de la deuxième guerre mondiale dans le but de maintenir la paix et la sécurité dans le Monde.

L'Assemblée générale de l'ONU (185 Etats) siège à New York ; elle choisit en partie le Conseil de sécurité, confirme le Secrétaire général et contrôle les organismes internationaux.

Le Conseil de sécurité formé de 5 Etats (Russie, France , Etats-Unis, Royaume-Uni, Chine) est l'organe de décision. En effet, tous les Etats doivent respecter ses décisions et chaque pays permanent possède un droit de veto.

L'ONU travaille sur le terrain grâce à des organismes internationaux comme l'UNICEF, l'UNESCO, l'OMS etc....et intervient pour faire respecter la paix dans le monde grâce à sa force d'intervention connue sous le nom de « casques bleus ».

3/4