

DIPLÔME NATIONAL du BREVET
session 2000

HISTOIRE-GÉOGRAPHIE
et
ÉDUCATION CIVIQUE
(série Technologique)

- L'épreuve comporte trois parties que le candidat traitera obligatoirement :
 - Première partie : histoire et géographie (18 points)
Le candidat ne traitera qu'un sujet parmi les deux proposés. Il a le choix entre le sujet 1 « Géographie » ou le sujet 2 « Histoire ».
 - Deuxième partie : éducation civique (12 points)
 - Troisième partie : repères chronologiques et spatiaux (6 points)

- 4 points sont attribués à l'orthographe et l'expression écrite.

- La page 8/8 est à rendre avec la copie.

- L'utilisation des calculatrices électroniques n'est pas autorisée.

Groupement Interacadémique II	Diplôme National du Brevet - série Technologique	session 2000
Épreuve : HISTOIRE-GÉOGRAPHIE et ÉDUCATION CIVIQUE		Durée : 2 heures
		Coefficient : 2
IASN	Ce sujet comporte 7 pages agrafées et 1 page simple	Page 1 / 8

PREMIÈRE PARTIE

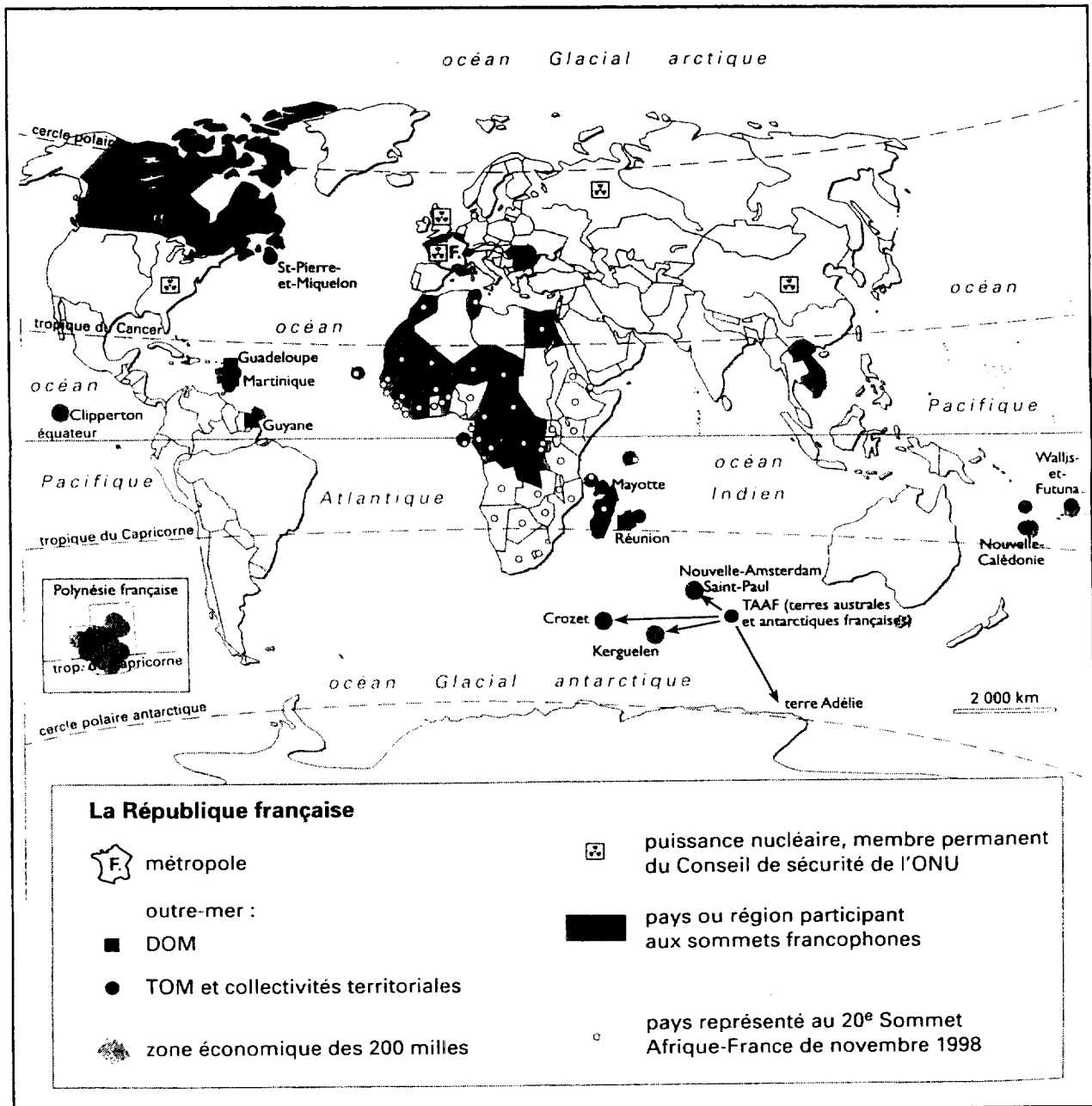
HISTOIRE et GÉOGRAPHIE (18 points)

LE CANDIDAT TRAITERA, AU CHOIX, L'UN DES DEUX SUJETS SUIVANTS :

SUJET 1 : GÉOGRAPHIE

« Présence de la France dans le monde »

Document 1 : La présence planétaire de la France.



(Chiffres pour l'année 1998)

Pays	France	États-Unis	Japon	Chine	Afrique du Sud
Superficie (km ²)	549 000	9 373 000	372 000	9 596 000	1 221 000
Population (millions)	60	270,2	126,4	1 242,5	38,9
P.N.B. par habitants (en dollar)	26 050	28 740	37 850	860	260
Espérance de vie	77,8	77,4	79,6	69,4	49,6

Source : INSEE.

Questions : (8 points)**Document 1 :**

1. Le territoire français est-il limité à la métropole ? Justifiez votre réponse en vous appuyant sur les informations tirées du document. (2 points)
2. Ce document renseigne sur plusieurs éléments de la puissance française. Quels sont ces éléments ? (2 points)

Document 2 :

Un pays doit-il avoir une grande superficie pour avoir un poids économique important dans le monde ? Justifiez votre réponse par des exemples tirés du document. (4 points)

(*Attention : tous les éléments figurant dans ce tableau ne sont pas utiles pour répondre à la question.*)

Paragraphe argumenté : (10 points)

A l'aide de vos connaissances et des documents, vous rédigerez un paragraphe d'une vingtaine de lignes dans lequel vous expliquerez comment la France peut peser sur la scène internationale malgré sa petite superficie.

« Berlin au cœur des affrontements est-ouest »

Document 1 : La couverture de Paris-Match du 23 novembre 1989.



Document 2 : « Ich bin ein Berliner »

« Il y a beaucoup de gens dans le monde qui ne comprennent pas ou qui prétendent ne pas comprendre quelle est la grande différence entre le monde libre et monde communiste. Qu'ils viennent à Berlin !

Il y en a qui disent qu'en Europe et ailleurs, nous pouvons travailler avec les communistes. Qu'ils viennent à Berlin !

Notre liberté éprouve certes beaucoup de difficultés et notre démocratie n'est pas parfaite. Cependant, nous n'avons jamais eu besoin, nous, d'ériger un mur pour empêcher notre peuple de s'enfuir. [...] Le mur fournit la démonstration éclatante de la faillite du système communiste. Cette faillite est visible aux yeux du monde entier. Nous n'éprouvons aucune satisfaction en voyant ce mur, car il constitue à nos yeux une offense non seulement à l'histoire mais encore plus une offense à la liberté. [...]

Tous les hommes libres, où qu'ils vivent, sont citoyens de Berlin. C'est pourquoi, en tant qu'homme libre, je suis fier de dire : **Ich bin ein Berliner** ! (1)

Discours prononcé par le président J.F. Kennedy face au mur de Berlin, le 23 juin 1963.

(1) « Je suis un Berlinois ! »

Questions : (8 points)

Document 1 :

1. Quel événement historique présente cette couverture de Paris-Match ? (2 points)
2. Le magazine nous informe qu' « une époque s'achève ». De quelle époque s'agit-il ? (2 points)

Document 2 :

1. Présentez l'auteur du texte, la date et le lieu. (2 points)
2. Comment l'auteur divise-t-il le monde ? (2 points)

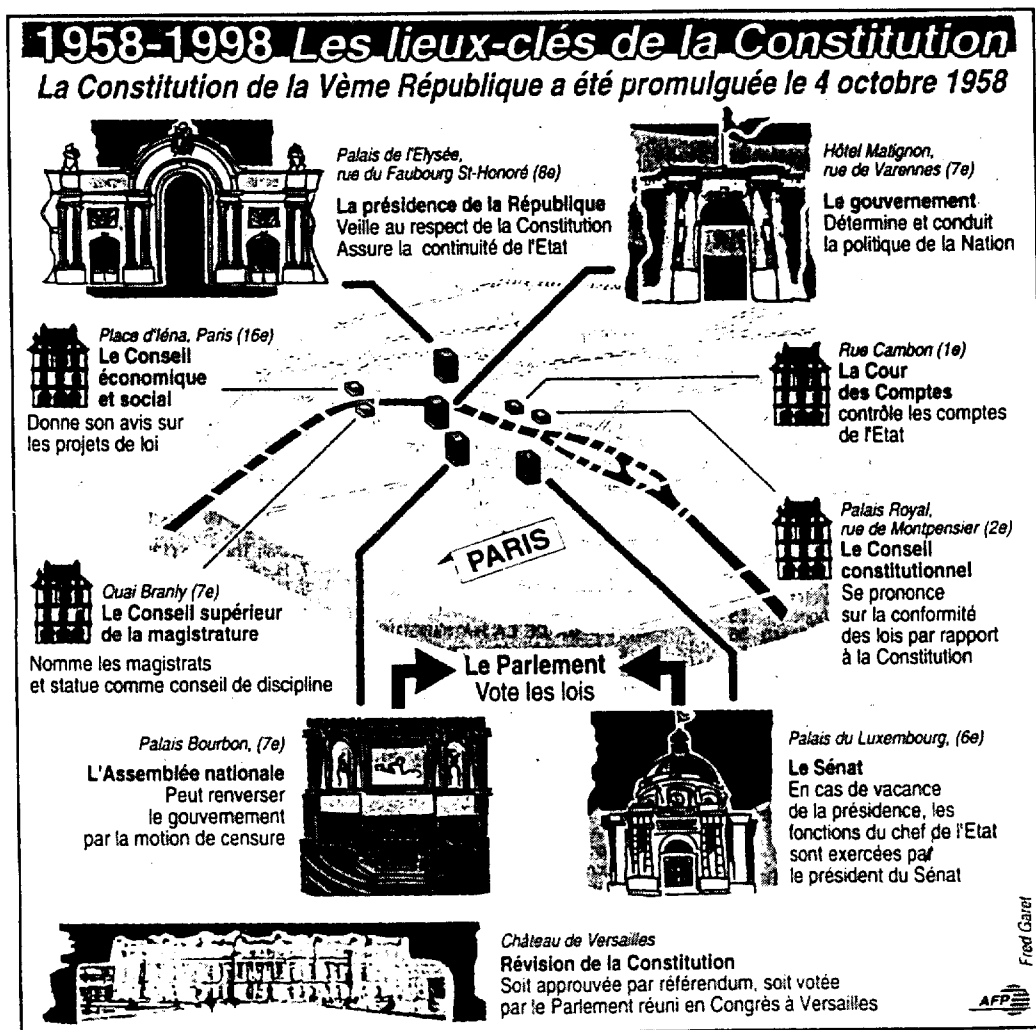
Paragraphe argumenté : (10 points)

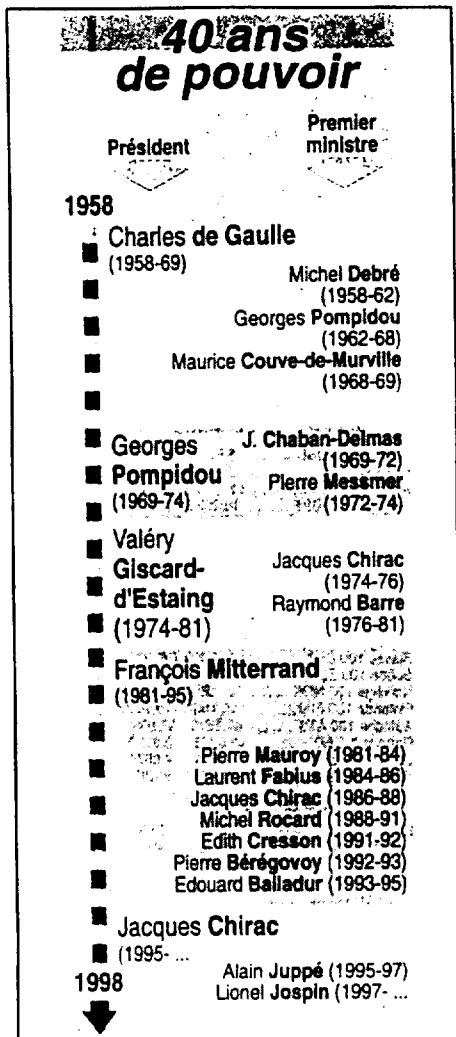
A l'aide des documents et de vos connaissances vous expliquerez, dans un paragraphe d'une vingtaine de lignes, en quoi Berlin symbolise les rapports est-ouest de 1945 à 1989.

DEUXIÈME PARTIE

ÉDUCATION CIVIQUE (12 points)

Document 1





La Constitution de la Ve République (extraits)

- **Article 3.** La souveraineté nationale appartient au peuple qui l'exerce par ses représentants et par la voie du référendum...
- **Article 5.** Le président de la République veille au respect de la Constitution. Il assure, par son arbitrage, le fonctionnement régulier des pouvoirs publics ainsi que la continuité de l'État...
- **Article 8.** Le président de la République nomme le Premier ministre. Il met fin à ses fonctions sur la présentation de celui-ci de la démission du Gouvernement...
- **Article 9.** Le président de la République préside le Conseil des ministres.
- **Article 12.** Le président de la République peut ... annoncer la dissolution de l'Assemblée nationale.
- **Article 15.** Le président de la République est le chef des armées.
- **Article 16.** Lorsque les institutions de la République, l'indépendance de la Nation ... sont menacées d'une manière grave et immédiate, le président de la République prend les mesures exigées par les circonstances.
- **Article 20.** Le Gouvernement détermine et conduit la politique de la Nation. Il dispose de l'administration et de la force armée. Il est responsable devant le Parlement.
- **Article 21.** Le Premier ministre dirige l'action du Gouvernement. Il est responsable de la Défense nationale. Il assure l'exécution des lois... Il nomme aux emplois civils et militaires.
- **Article 24.** Le Parlement comprend l'Assemblée nationale et le Sénat. Les députés à l'Assemblée nationale sont élus au suffrage direct.
- **Article 34.** La loi est votée par le Parlement...
- **Article 50.** Lorsque l'Assemblée nationale adopte une motion de censure*... le Premier ministre doit remettre au président de la République la démission du Gouvernement.

Questions : (4 points)

1. Citez deux rôles du Président de la République. (1 point)
2. Quel est le rôle principal du Parlement ? Donnez le nom des deux assemblées qui le composent. (1 point)
3. Quels hommes politiques ont été premiers ministres avant d'être présidents de la République ? (1 point)
4. Quelle est la durée du mandat présidentiel ? Quel Président de la République a accompli intégralement deux mandats ? (1 point)

Paragraphe argumenté : (8 points)

Dans un paragraphe argumenté d'une quinzaine de lignes, vous direz ce qui caractérise le rôle et les pouvoirs du Président de la République.

TROISIÈME PARTIE

REPÈRES CHRONOLOGIQUES et SPATIAUX (6 points)

(Document à rendre avec la copie)

- Sur la carte, écrivez le nom des villes :
 - Washington
 - Boston
 - San Francisco
 - Chicago
- Soulignez en rouge celle qui est la capitale des États-Unis.
- Inscrivez le nom de deux pays voisins.

ETATS-UNIS

