

# A AGRAFER A LA COPIE D'EXAMEN

Diplôme National du Brevet

Cette épreuve comporte 3 parties

Session 2007

Partie 1 : obligatoire

12 points

Série professionnelle

Partie 2 : au choix (A ou B)

12 points

Epreuve de MATHÉMATIQUES

Partie 3 : obligatoire

12 points

Durée de l'épreuve : 2 heures

Présentation et rédaction

4 points

Coefficient : 2

**TOTAL**


*L'usage de la calculatrice est autorisé*

*Le candidat répondra sur le sujet*

**La rédaction et la présentation seront prises en compte pour 4 points**

## PARTIE 1 (Obligatoire /12 points)

Exercice 1 :

**Compléter** le tableau suivant :

x	2x - 5	x <sup>3</sup>	√x
16			
0			
-5			

Exercice 2 :

**Résoudre** les équations suivantes en détaillant les calculs :

$$4x - 2 = 10$$

$$\frac{x}{5} = \frac{7}{2}$$

.....  
 .....

.....  
 .....

Exercice 3 :

**Effectuer** les opérations suivantes en détaillant les calculs.

**Ecrire** le résultat sous la forme d'une fraction irréductible.

$$\frac{2}{3} + \frac{5}{6} = \dots\dots\dots$$

$$\frac{3}{4} \times \frac{2}{9} = \dots\dots\dots$$

$$\frac{2}{5} : \frac{4}{7} = \dots\dots\dots$$

.....

.....

.....

Exercice 4 :

Un ordinateur est vendu au prix de 1 250 € hors taxe. A ce prix s'ajoute une taxe (TVA) de 19,6 %.

a) **Calculer**, en euro, le montant de la TVA.

.....

b) **Calculer**, en euro, le prix à payer pour cet ordinateur taxe comprise.

.....

Exercice 5 : Le volume d'un cône est donné par la relation :  $V = \frac{1}{3} \times \pi \times R^2 \times h$

**Calculer**, en cm<sup>3</sup>, le volume  $V$  pour un rayon  $R$  de 8 cm et une hauteur  $h$  de 15 cm (on prendra 3,14 comme valeur de  $\pi$ ).

.....  
 .....



PARTIE 2 - A : Dominante géométrique ( /12 points)

Exercice 1 :

- a) **Placer** le point O, milieu du segment [AB].
- b) **Tracer** le cercle de centre O et de diamètre AB.



- c) **Placer** un point C sur le cercle tel que  $BC = 5 \text{ cm}$ .
- d) **Tracer** le triangle ABC.
- e) **Indiquer** la nature du triangle ABC. Justifier la réponse.

.....

.....

- f) **Placer** le point C' symétrique du point C par rapport au point O.
- g) **Indiquer** la nature du quadrilatère CBC'A. Justifier la réponse.

.....

.....

Exercice 2 :

Les proportions ne sont pas respectées. Les cotes sont en mm.

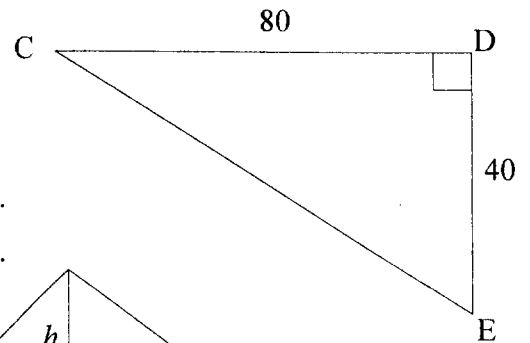
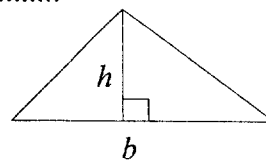
- a) **Calculer**, en mm, la longueur CE. Arrondir à l'unité.  
Détaillez les calculs.

.....

.....

- b) **Calculer**, en  $\text{mm}^2$ , l'aire du triangle CDE.

Rappel :                    aire du triangle                     $A = \frac{1}{2}bh$



- c) **Exprimer** cette aire en  $\text{cm}^2$ .

.....

- d) **Calculer**  $\tan \widehat{DCE}$  .

.....

- e) **En déduire**, en degré, la mesure de l'angle  $\widehat{DCE}$  . Arrondir au degré.

.....

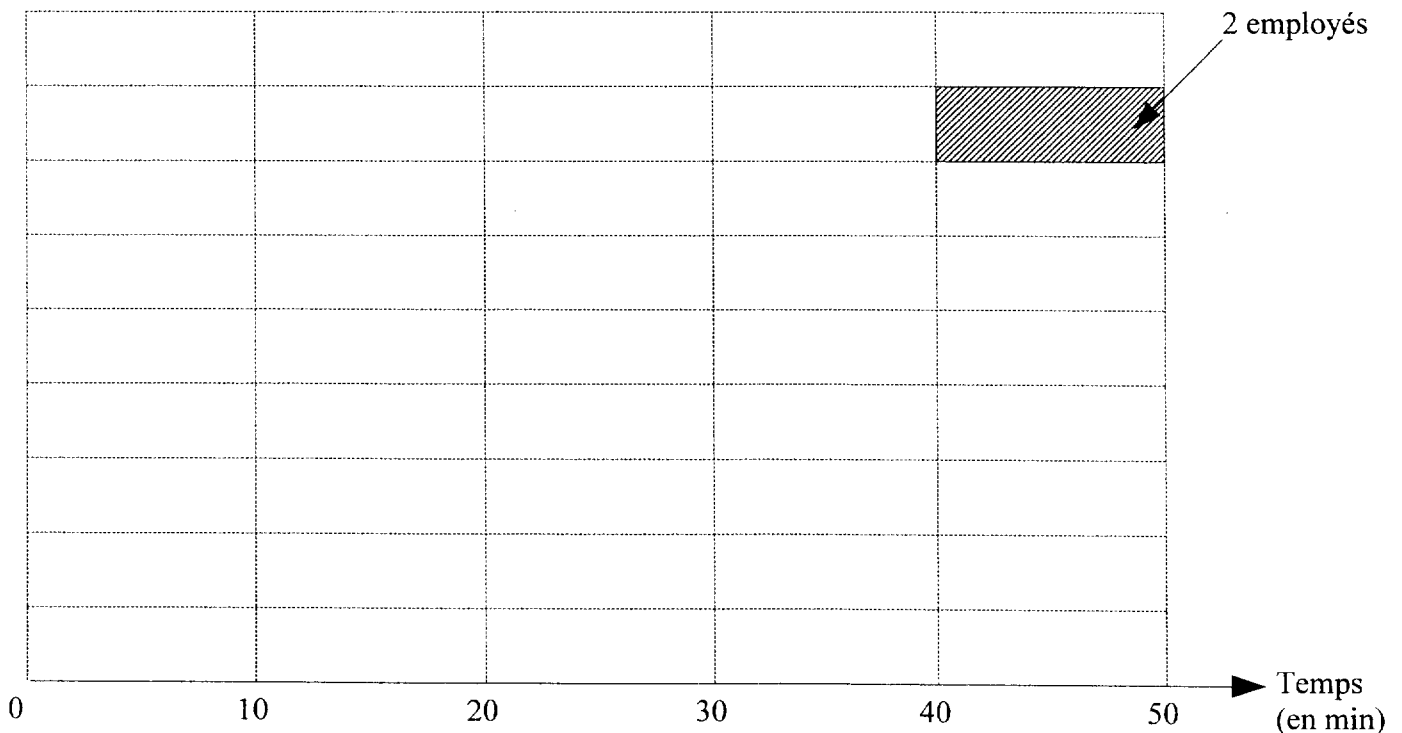


## PARTIE 2 - B : Dominante statistique ( /12 points)

Un institut de recherche, fait une enquête sur le temps mis par les employés d'une entreprise pour se rendre à leur travail. Les résultats de cette enquête sont donnés dans le tableau ci-dessous :

Temps en minutes	Nombre d'employés $n_i$	Fréquence $f_i$ en %	Centre de classe $x_i$	Produit $n_i \times x_i$
[ 0 ; 10 [	4	8	5	20
[ 10 ; 20 [	16	.....	.....	240
[ 20 ; 30 [	18	.....	25	450
[ 30 ; 40 [	.....	20	.....	.....
[ 40 ; 50 [	2	.....	45	.....
	50	100		1150

- Compléter le tableau ci-dessus.
- Déterminer le nombre d'employés qui mettent moins de 20 minutes pour se rendre à leur travail.  
.....
- Calculer le pourcentage d'employés qui mettent 30 minutes et plus pour se rendre à leur travail.  
.....
- Calculer , en minutes, le temps moyen mis par un employé pour se rendre à son travail.  
.....
- Tracer ci-dessous l'histogramme des effectifs.



### PARTIE 3 (Obligatoire /12 points)

Pour cette partie, le candidat utilisera l'annexe.

Un vidéoclub propose deux formules pour la location de DVD.

- formule **A** : le client paie 1,20 € pour chaque DVD loué.
- formule **B** : le client paie un forfait dont les conditions seront étudiées à la question 2.

#### Formule A

a) **Compléter** le tableau suivant pour la formule **A** :

Nombre de DVD	0	10	15	20	...	30
Prix en euros	0	12	...	...	30	...

b) Dans le repère de l'annexe, **placer** les points dont les coordonnées figurent dans le tableau ci-dessus.

c) **Tracer** la droite passant par ces points.

#### Formule B

La droite tracée dans le repère de l'annexe permet de déterminer le prix payé par le client.

d) **Compléter** le tableau suivant en utilisant cette droite.

Nombre de DVD	0	10	15	...	25	30
Prix en euros	15	21	...	27	...	33

e) **Déterminer** graphiquement le nombre de DVD à louer pour lequel le prix à payer est le même avec les deux formules et indiquer le prix correspondant. Laisser apparents les traits utiles à la lecture.

Nombre de DVD : .....

Prix correspondant : .....

f). **Déterminer** la formule pour laquelle le prix à payer est le moins élevé dans les cas suivants :

Pour 15 DVD loués, il est préférable de choisir la formule .....

Pour 28 DVD loués, il est préférable de choisir la formule .....

# Annexe

